

林揚社會

國一社會(上)



P. OF THE MOON

目錄

地理

第一單元	位置與地圖.....	1
第二單元	世界中的台灣.....	4
第三單元	地形.....	10
第四單元	台灣的海岸、島嶼.....	15
第五單元	天氣與氣候.....	23
第六單元	台灣的河川.....	26

公民

第一單元	人性尊嚴與保障.....	1
第二單元	性別平權.....	3
第三單元	親屬關係與家庭職能.....	6
第四單元	平權家庭.....	10
第五單元	校園生活與公共事務參與.....	13
第六單元	社區與部落.....	16

歷史

第一單元	史前時代.....	1
第二單元	17世紀大航海時代各國競爭.....	8
第三單元	清帝國時代時代.....	15
第四單元	清帝國的農商業.....	25
第五單元	清帝國時期社會文化.....	30
第六單元	清帝國時期的原住民社會.....	33

第一單元 位置與地圖

一、絕對位置 VS 相對位置

1. 定義

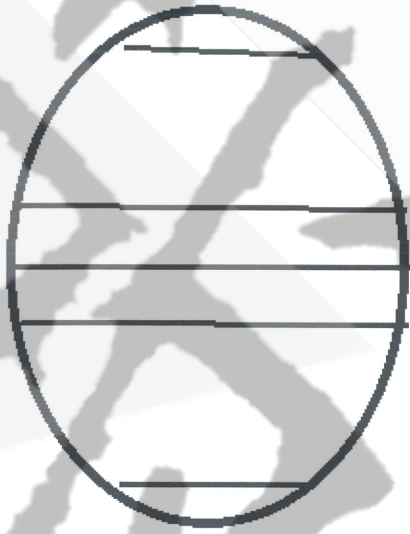

() 位置	() 位置
利用「座標系統」來表現目標物所在的方式。	利用目標和某個對象的方位關係，來標示目標所在的方式。

2. 判斷



	絕對	相對
心怡坐在土政的東方。		
籌仁的座位在第三行第三列。		
我家距公車總站 5 分鐘		
臺灣位於東經 120~122 度		
臺灣位在亞洲大陸東南沿海		
台灣位在菲律賓的北方。		

二、重要經緯度

1. 圖示

重要緯度	重要經度
	
1. 最長的緯度 () 2. 最短的緯度 () 3. 緯度的影響:四季變化、晝夜長短	1. 所有經度都等長 2. 經度影響時差

地理
三、時區計算

神奇的披薩	要點
	<p>1. 一時區 15°，地球有 24 時區 2. 定位:非 15 倍數不可定位 3. 開始數，答案出現</p> <p>例題 台灣與英國相差 () 小時 台灣與紐約相差 () 小時 台灣與 LA 相差 () 小時</p> <p>台灣目前 20 : 55 分 英國 () 時 55 分 紐約 () 時 55 分 LA () 時 55 分 日本 () 時 55 分</p>
坐飛機	
	<p>小儒於 5 月 19 日上午八點從台灣(120°E) 飛往美國紐約 (75°W)，到達當地時間是 5 月 19 號上午 11 點，請問此趟航班一共飛了多少時間？</p>

四、地圖要素

圖名	可了解此地圖為普通地圖或主題地圖。
圖例	地圖的語言（最重要）。
方位	原則上方為北。
比例尺	縮小放大的比例。

五、比例尺

1. 定義

	1 : 1	1 : 10000
大小		
範圍	小	大
內容	詳細	簡略
例子	教室平面圖	台灣地圖

2. 計算

1:10000 地圖上，圖上 10 公分，實際上為幾公分？	台灣南北長 390 公里，東西寬 140 公里，若要繪製 500 公分正方的海報上且面積最大，下列何比例尺最恰當？（100-1 基測） (A) 1:10000 (B) 1:25000 (C) 1:100000 (D) 1:250000

3. 判斷



第二單元 世界中的台灣

一、全球海陸分布



位置	七大洲、三大洋
地形	70% () 30% ()
水半球中心	()
陸半球中心	()