

103年第二次專門職業及技術人員高等考試醫師中醫師考試
分階段考試、中醫師、營養師、心理師、護理師、社會
工作師考試、103年專門職業及技術人員高等考試法醫師、
語言治療師、聽力師、牙體技術師考試試題

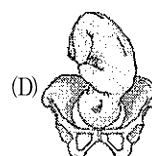
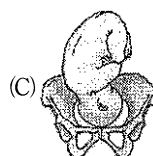
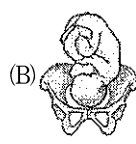
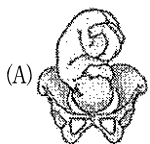
代號：4109
頁次：8-1

等 別：高等考試
類 科：護理師
科 目：產兒科護理學
考試時間：1 小時

座號：_____

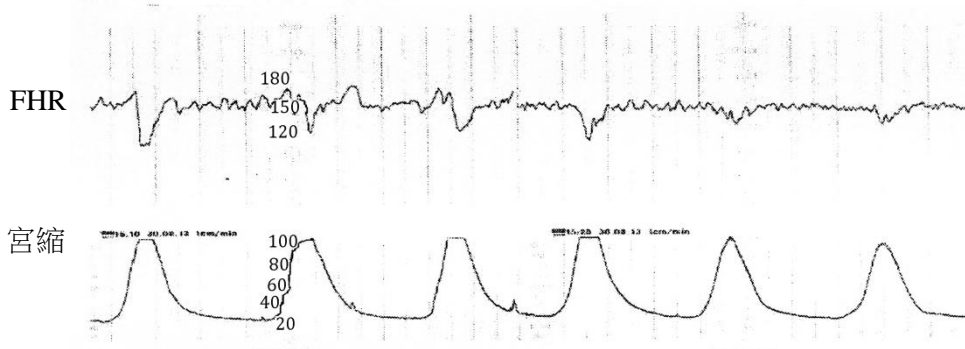
※注意：(一)本試題為單一選擇題，請選出一個正確或最適當的答案，複選作答者，該題不予計分。
(二)本科目共 80 題，每題 1.25 分，須用 2B 鉛筆在試卡上依題號清楚劃記，於本試題上作答者，不予計分。
(三)禁止使用電子計算器。

- 有關我國當前婦女健康政策與婦嬰照護理念的敘述，下列何者正確？
(A)縮減產後住院天數，使產婦與其新生兒能儘早出院以避免醫療浪費
(B)因應崇尚自然的觀念，鼓勵居家生產，減少醫療化
(C)將生產主導權重新歸還產婦及其家庭成員
(D)鼓勵將待產室、分娩室與產後恢復室三單位分開，避免同處一室帶給產婦生產經驗混淆
- 隨著妊娠週數的變化，孕婦小心的避開擁擠人群、保護腹部，此為何種現象？
(A)身體界限 (B)身體心像 (C)身體覺察 (D)身體調適
- 陳女士第一胎入院待產，對於護理師執行任何治療時，主動提出問題，臉上表情愉快，陳女士正處於產程何階段？
(A)潛伏期 (B)活動期 (C)轉換期 (D)第二產程
- 孫女士在三週前服用感冒藥，但今天得知已懷孕，她擔心感冒藥會導致胎兒畸形，因此想墮胎，詢問護理師該如何處理，下列回答何者較為適當？
(A)醫師目前開的感冒藥均非致畸胎藥物，因此不會引起胎兒異常，不需要去墮胎
(B)請問你服用藥物的名稱、劑量及最後一次月經的第一天時間，我可以做初步評估
(C)我幫你預約超音波檢查，讓醫生為你診斷胚胎是否有畸形
(D)若藥物引起胚胎問題，則會自然流產，因此不需要特別診治
- 有關妊娠期物質使用的護理指導，下列何者錯誤？
(A)胎兒無法快速排除酒精，乙醛蓄積體內導致神經受傷害
(B)尼古丁使子宮血管收縮，影響子宮與胎盤間的血液灌流量
(C)尼古丁會進入母乳產生異味
(D)吸菸時菸草燃燒產生二氧化碳，會影響胎兒氧氣量的供應
- 懷孕期間婦女的陰道因受到雌激素影響而產生藍紫色的現象，陰道黏膜變厚、骨盆腔充血，此為下列何種現象？
(A)古德爾氏徵象 (Goodell's sign) (B)查德威克氏徵象 (Chadwick's sign)
(C)海格爾氏徵象 (Hegar's sign) (D)拉頂氏徵象 (Ladin's sign)
- 有關妊娠時子宮的變化，下列何項正確？
(A)厚度減少 (B)子宮體變硬 (C)子宮肌纖維變短 (D)子宮重量維持不變
- 下列那一胎位圖型是左枕前位 (LOA)？



- 9 孕婦進行催產素挑戰試驗 (Oxytocin Challenge Test; OCT) 時，子宮收縮頻率為每 10 分鐘 1~2 次，每次收縮皆伴隨胎心率晚期減速，下列何者錯誤？
(A) 是評估胎盤氣體交換功能的一種方式
(B) 停止催產素輸入，必要時通知給氧並通知醫師
(C) 胎盤功能不佳
(D) 為過度刺激
- 10 朱女士，G₂P₂，採陰道生產，目前已進入第二產程，於第二產程使用閉氣用力技巧，她可能會出現下列何種生理反應？
(A) 胸內壓降低
(B) 心臟靜脈血回流降低
(C) 母血二氧化碳濃度降低
(D) 心輸出量上升
- 11 王女士，懷孕 30 週，陰道突然有無痛性鮮紅色出血，其最有可能是下列何種情況？
(A) 早期破水
(B) 前置胎盤
(C) 胎盤早期剝離
(D) 植入性胎盤
- 12 王女士，28 歲，G₁P₀，妊娠 20 週，因不確定是否有胎動而來醫院就診，檢查發現 TPR：36.5, 76, 22；BP：100/72 mmHg；FHB：166 bpm，無宮縮情形，護理師應提供何項措施？
(A) 需進一步安排羊水檢查，以確立胎兒是否有心臟功能異常
(B) 進一步安排宮縮壓力試驗 (CST)，以確認胎盤供應血氧功能
(C) 進一步確認其胎動測量與觀察的方法是否正確，教導如何計算胎動
(D) 建議進一步安排超音波檢查，檢測胎心音的變異性
- 13 有關引產過程中產生高張性的宮縮時，下列何者為最優先的措施？
(A) 讓產婦下床活動
(B) 停止催產素注射
(C) 採左側臥姿勢
(D) 準備緊急剖腹產
- 14 有關剖腹產方式的敘述，下列何者錯誤？
(A) 子宮上段剖腹生產方式，可以增大手術空間，使胎兒容易娩出
(B) 子宮下段的剖腹生產方式，適合緊急剖腹手術
(C) 前胎為胎頭骨盆不對稱者，不適合採用剖腹產後陰道生產
(D) 子宮低位橫切法是目前常用的剖腹方式

王女士懷孕 38 週，入院待產中，產程進展情形為：子宮頸擴張 6cm，變薄 60%，高度為 0，胎兒監測器顯示如下圖，請依此回答第 15 題至第 16 題。



- 15 護理師根據圖形的判讀，此情形為何？
(A) 胎心率加速
(B) 胎心率早期減速
(C) 胎心率晚期減速
(D) 胎心率變異性減速
- 16 下列何者可能為造成上述情形的原因？
(A) 胎頭受壓
(B) 胎盤功能不良
(C) 臍帶受壓
(D) 胎兒窘迫
- 17 方女士詢問護理師有關待產期的生產姿勢，下列說明何者錯誤？
(A) 採平躺姿勢能兼顧產婦舒適及減少對會陰部的壓力
(B) 使用生產椅有助於胎兒下降速度
(C) 辛氏左側臥姿勢不會影響下肢靜脈回流
(D) 採跪姿，雙手著地支撐上半身

- 18 李女士待產時主訴口乾、宮縮時感到下腹部酸痛且全身燥熱，下列護理措施何者不恰當？
(A)給予冷毛巾放在後頸部 (B)給予口含冰塊
(C)熱敷墊放在下腹部 (D)採平躺減少背部壓迫
- 19 有關胎心音於子宮收縮時的變化，下列何項表徵為異常？
(A)胎心音減速出現於宮縮開始時，最低點為 110 bpm，宮縮結束後回到 137 bpm
(B)胎心音減速出現於宮縮最高點，最低點為 80 bpm，宮縮結束後回到 120 bpm
(C)胎心音加速隨著宮縮開始後出現，最高點為 165 bpm，宮縮結束後回到 145 bpm
(D)胎心音隨宮縮出現加速或減速，但一直維持在 120~160 bpm 之間
- 20 王女士 G₃P₂，子宮頸口開 8 公分，完全變薄 80%，護理師正協助其移位至產檯時，王女士大叫痛且不自主地用力，此時護理師最佳的指導措施是下列何者？
(A)請王女士不要用力，以免產下胎兒 (B)請王女士哈氣，待宮縮結束後再移位
(C)請王女士儘量忍耐，保持冷靜 (D)告訴王女士想用力就用力
- 21 護理師給予剛生產完婦女進行子宮按摩，下列方式何者適當？
(A)兩手掌交疊放在子宮底上進行環狀按摩
(B)一手固定子宮底上，另一手環狀按摩子宮下段
(C)一手固定在恥骨聯合上方，另一手環狀按摩子宮底
(D)一手固定在恥骨聯合上方，另一手環狀按摩整個子宮
- 22 有關生產後惡露的變化，下列敘述何者錯誤？
(A)產後 1~3 天為紅惡露，顏色呈鮮紅色
(B)陰道生產的惡露量通常比剖腹產的多
(C)初產婦的惡露量通常比經產婦多
(D)評估一小時的惡露量，如整片產褥墊濕透稱為大量
- 23 下列何者為陰道生產後 2 小時產婦仍無尿意感的常見原因？
(A)「產後利尿」發生於生產 24 小時之後
(B)膀胱因產時胎兒的壓迫，讓產婦對尿液的敏感度減低
(C)產後黃體素下降，影響細胞通透性，細胞外液內移
(D)待產、生產時用力，導致水分喪失過多
- 24 李女士，G₁P₁，產後第一天在掉眼淚，先生在旁要她別胡思亂想，生小孩的喜悅都被哭跑了。下列護理師反應何者較不恰當？
(A)鼓勵並陪伴先生一起聽聽李女士哭泣的原因
(B)解釋產後體內賀爾蒙明顯起伏，會影響產婦的情緒
(C)說明產後婦女需要時間適應母親角色的轉變
(D)指出先生沒有同理產婦的情緒反應
- 25 有關產後的生理變化，下列敘述何者錯誤？
(A)產後約 4 週可恢復至妊娠前正常的心輸出量
(B)產後初期心輸出量減少，可能發生心搏過緩
(C)因肌肉過度用力與脫水，產後有短暫性的體溫上升
(D)橫膈膜壓力降低使呼吸較產前順暢
- 26 王女士 G₃P₃，採母乳與配方奶混合哺餵，詢問護理師有關避孕的措施，下列回答何者恰當？
(A)產後要等到六週後才需避孕 (B)月經未恢復前不須避孕
(C)產後最適合的避孕方式是使用保險套 (D)產後一週即可開始服用口服避孕藥
- 27 有關產後 4 個月內婦女對奶水不足或嬰兒拒絕吃母乳的擔憂，下列護理師的反應何者較不恰當？
(A)嬰兒頭轉來轉去尋乳，是正常的行為不是拒食
(B)多數母親仍有足夠奶水只是缺乏自信心
(C)建議母親擠出奶水，了解泌乳量
(D)如果嬰兒生長曲線並未落後，建議母親不需太早添加副食品

- 28 下列那類婦女可以裝置子宮內避孕器？
(A)曾剖腹產者 (B)月經過多者 (C)有子宮外孕病史者 (D)子宮發炎者
- 29 有關於新生兒生理性黃疸的敘述，下列何者正確？
(A)於出生 3~4 天達高峰，足月兒一週內總膽紅素上升速率 < 5mg/dL
(B)於出生後 21 天即會下降，不需特別治療
(C)足月兒發生黃疸的機率比早產兒高
(D)因為肝臟代謝速率太快，無法保留膽紅素所致
- 30 有關胎頭腫塊 (Caput succedaneum) 的特性，下列敘述何者錯誤？
(A)為胎兒頭皮上軟組織水腫 (B)通常會超過顱骨縫合線
(C)是因頭皮受壓形成之水腫 (D)約 6 週後會自然消失，無需治療
- 31 新生兒即刻護理完成後，護理師將棉紗帽戴在新生兒頭上，然後進行親子肌膚接觸。下列何者為此帽子的主要功用？
(A)避免頭部皮膚損傷 (B)增加新生兒外貌美觀
(C)減少體溫的散失 (D)避免頭部胎脂染污母親
- 32 足月新生兒出生第 2 天，體重 3000gm，1 天哺餵 8 次配方奶，每次平均需進食多少奶量，才能符合其熱量需求？
(A)50~55 c.c (B)62~68 c.c (C)70~76 c.c (D)80~86 c.c
- 33 孕婦感染淋病未加以治療，新生兒出生時可能會感染下列何種疾病？
(A)新生兒眼炎 (B)鵝口瘡 (C)肺炎 (D)皮膚炎
- 34 劉女士，G₁P₀，妊娠 10 週，發現陰道有少量褐色分泌物，並伴隨有腹痛現象，詢問護理師應該如何處理，有關護理師提供的建議，下列何項較不恰當？
(A)建議臥床休息 (B)應到醫院接受陰道內診檢查
(C)繼續觀察陰道分泌物情形 (D)暫停性生活
- 35 有關更年期婦女的飲食衛教，下列何者不恰當？
(A)每日飲用 2 杯奶製品 (B)採用低熱量飲食 25 kcal/kg/day
(C)增加鈣質攝取達 1200~1400 mg/day (D)足夠維生素 D 攝取 400 IU/day
- 36 一位 40 歲糖尿病中年婦女最容易發生何種陰道炎？
(A)細菌性陰道炎 (B)萎縮性陰道炎 (C)念珠球菌陰道炎 (D)非特異性陰道炎
- 37 有關卵巢腫瘤增大時之症狀敘述，下列何者除外？
(A)頻尿、便秘 (B)腰圍突然變大 (C)異常陰道出血 (D)腹部脹痛
- 38 下列何者不是根除性子宮切除術後婦女常見的問題？
(A)便秘 (B)腹瀉 (C)尿瀦留 (D)腎絲球腎炎
- 39 有關不孕症檢查項目及其目的之敘述，下列何者錯誤？
(A)記錄基礎體溫可了解是否排卵
(B)進行同房試驗以檢查陰道構造
(C)子宮輸卵管攝影可檢查子宮輸卵管構造
(D)精液分析可確認精子數量、形狀、活動力
- 40 有關產後的身體評估，下列何者可能屬於異常現象？
(A)產後 24 小時內出血量 80 c.c. (B)產後 24 小時子宮底高度在肚臍之上
(C)產後 24 小時體溫 37.5°C (D)產後 24 小時子宮摸起來堅硬如球
- 41 根據我國近 3 年生命統計資料，顯示 1~14 歲兒童主要死亡原因前 3 位，不包括下列何者？
(A)氣喘 (B)事故傷害 (C)惡性腫瘤 (D)先天性畸形

- 42 護理師使用家庭樹 (family tree) 呈現個案家庭評估資料時，下列那些項目是家庭樹需收集的資料？
①家庭成員的健康狀態 ②家庭成員間關係的強弱 ③家庭成員的性別 ④家庭成員與朋友的關係
(A)①② (B)①③ (C)②④ (D)③④
- 43 小芳，5 歲，各項生長發育評估皆正常，下列那一項是小芳目前發展階段會出現的遊戲特點？
(A)在旁觀看其他小朋友玩，從中分享很快樂，但無意加入
(B)喜歡跟其他小朋友玩，偶而有交換玩具，但仍各玩各的
(C)會把玩具拿出來讓別的孩子一起玩，但沒有團體遊戲規則
(D)玩團體遊戲，有團體目標，開始出現分工合作的情形
- 44 林小美就讀國小三年級，開學 1 個月內已因腹痛及嘔吐被送到保健室多次，經醫師檢查沒有問題，但媽媽發現小美在家休息時肚子就不痛，今日上學前又抱怨腹痛，不想上學，但媽媽仍強迫她到學校，此時護理師優先處理的步驟，下列何者最合適？
(A)建議媽媽當小美抱怨腹痛時可讓她留在家休息
(B)建議媽媽嘗試鼓勵小美說出上學的感受
(C)建議媽媽帶小美去找專業人員做心理諮商
(D)建議媽媽鼓勵小美邀請同學到家裡來玩
- 45 張小妹，5 歲，入院做心導管檢查，護理師要向張小妹做檢查前解釋，下列護理指導方法何者較不恰當？
(A)運用第三人稱說故事 (B)運用解剖圖片說明 (C)運用繪本說明 (D)運用角色扮演遊戲
- 46 媽媽告訴護理師 3 歲的吳小弟抱怨藥水太多，不願意吃，因此護理師將高瘦藥杯更換為較矮胖的杯子後，吳小弟才願意喝，上述情況護理師乃應用吳小弟尚未發展完成那一項認知概念？
(A)質量保留的概念 (B)逆轉變換的概念 (C)主動進取的概念 (D)物體恆存概念
- 47 安安，4 歲，看到躺在棺材中的爺爺，問媽媽說，「爺爺為什麼不動的躺在那裡？」安安此時期對死亡的概念為何？
(A)對死亡完全沒有概念 (B)將死亡擬人化 (C)死亡是無法避免的 (D)死亡是暫時的
- 48 明華，10 歲，罹患白血病末期，他在住院期間仍擔心著學校老師規定的作業還未完成，依據艾瑞克森理論 (Erikson theory)，這表示明華的心理社會發展屬於何種狀況？
(A)完成主動進取的發展任務 (B)表現出自我認同之發展任務
(C)完成正常化的發展任務 (D)符合現階段勤勉的發展任務
- 49 下列何者不是人類免疫缺乏病毒 (Human Immunodeficiency Virus；HIV) 之垂直傳染途徑？
(A)產前病毒經過胎盤 (B)生產過程時經產道接觸母親的血液
(C)產後因 ABO 血型不合溶血接受換血治療 (D)產後經由哺餵母乳
- 50 林小弟，1 歲 6 個月，因頭部撞傷，送醫院求治，以幼兒格拉斯哥氏量表 (Glasgow Coma Scale；GCS) 評估林小弟的意識程度發現如下：躁動不安無法安撫，然後需經由痛覺刺激，眼睛才會睜開、且上臂才會有收縮反應，其評分結果為何？
(A)7 分 (B)8 分 (C)9 分 (D)10 分
- 51 有關嬰幼兒腸胃道生理功能之敘述，下列何者正確？
(A)嬰幼兒的胃容量小、胃排空時間短、腸蠕動速度緩慢，故飲食需要少量多餐
(B)新生兒於出生 24 小時後，會因腸蠕動及胃結腸反射，解出墨綠色黏稠的胎便
(C)新生兒腸道的長度約為身長的 10 倍，腹瀉會流失較多的體液及電解質
(D)嬰兒因澱粉酶、脂肪酶、胰蛋白酶不足，而增加腹脹與腹瀉機會
- 52 有關兒童腹部的身體評估，下列敘述何者正確？
(A)腹部評估順序應為視診、叩診、觸診、聽診
(B)左下腹區若深觸診發現軟質塊狀物，可能為幽門狹窄
(C)疼痛部位宜最先進行叩診，以能夠正確進行疼痛評估
(D)聽診腸蠕動的性質與頻率，正常腸蠕動次數約為 3~40 次/分
- 53 唯一可由母親製造，經由胎盤傳送給胎兒的抗體為：
(A)IgA (B)IgE (C)IgG (D)IgM

- 54 林小弟，妊娠週數 40 週又 3 天出生，體重 4350 公克，自然娩出，進行新生兒身體評估時，下列徵象何者不是鎖骨骨折現象？
(A)測試驚嚇反射時，兩手臂動作不對稱 (B)患側局部有觸痛感或腫脹
(C)雙手手臂不等長、肩部不等高 (D)方形窗測試角度大於 90 度
- 55 小茗，4 歲，已完成大小便訓練，因手部蜂窩性組織炎手術住院，經常把大便解在尿片上，這種現象是屬於下列那種行為？
(A)儀式化行為 (B)不合作行為 (C)退行性行為 (D)自卑性行為
- 56 美美，3 歲，護理師給藥時常出現踢人、咬人或大哭大鬧的反抗行為，護理師如何協助美美服下口服藥物？
(A)向美美及其父母解釋服藥的目的及理由，需依醫囑按時服藥
(B)教導媽媽抱起美美坐於膝上，以一手固定，另一手持杯給藥
(C)在美美哭鬧時、嘴巴張開或捏著她的鼻子，利用時機讓她吞藥
(D)將藥物加入牛奶，告訴美美“這個是好吃的果汁牛奶，不是藥！”
- 57 有關病童接受腰椎穿刺前後的護理措施，下列敘述何者正確？
(A)穿刺前，戴清潔手套與口罩，保持穿刺部位呈無菌區，以避免感染
(B)穿刺前，協助病童抱膝俯臥，呈現蝦米狀姿勢，使脊柱充分展開
(C)穿刺後，監測是否有脊髓脫出症狀：呼吸快、心跳慢、血壓高等
(D)穿刺後，應讓病童抬高床頭臥床約 4 至 6 小時，以減少頭痛發生
- 58 楊小妹，妊娠週數 39 週又 5 天出生，體重 3980 公克，自然產，產鉗使用，產後 15 分鐘，當嬰兒哭時左臉扭抽，嘴角下垂，左半邊臉無活動，有關顏面神經麻痺之護理措施，下列何者不適當？
(A)若採用奶瓶餵食，宜採用質軟且奶嘴洞大之奶頭
(B)若吞嚥能力受損，宜依醫囑給予鼻胃管灌食
(C)若餵母乳時，宜將健側靠近乳房以利吸奶
(D)若眼瞼無法閉合，宜使用單眼眼罩保護
- 59 林小妹，妊娠週數 27 週又 4 天，現加護病房治療，有關林小妹身體各系統之功能性特徵，下列敘述何者錯誤？
(A)呼吸中樞的不成熟，易有呼吸暫停現象
(B)消化酶分泌不足，對脂肪消化能力有限
(C)腎小管再吸收能力差，易有蛋白尿或尿糖
(D)免疫功能較差，無法從母乳得到 IgG
- 60 凱凱，為 28 週的早產兒，一出生就住進早產兒加護病房，當雙親來探視凱凱，下列護理指導何者最為合適？
(A)避免回答雙親有關任何醫療科技或儀器的疑問
(B)說明凱凱在早產兒加護病房被照顧得很好，沒有任何問題
(C)清楚說明凱凱在早產兒加護病房的健康狀況及其醫療處置
(D)盡量讓雙親與凱凱獨處，但避免碰觸凱凱以避免交互感染
- 61 小宏，4 歲，自前天開始發燒、口腔出現水泡以及手掌、腳掌出現紅疹，被診斷為腸病毒感染而入院治療，下列護理措施，何者不適當？
(A)建議軟質或流質飲食 (B)發燒時給予解熱劑
(C)加強患童與家屬的正確洗手技巧 (D)鼓勵讀幼幼班的弟弟前來探視
- 62 有關日本腦炎的傳染、預防及免疫，下列敘述何者錯誤？
(A)不需媒介直接經過飛沫傳染或接觸患者的尿液、血液及體液而傳染
(B)每年 3~5 月注射日本腦炎疫苗，於流行季節可以達成 95% 的預防效果
(C)1 歲以下嬰兒雖有母親的抗體較不易得病，黃昏時仍宜避免外出
(D)嬰幼兒患者之血液、腦脊髓液及分泌物，並不需要特別的隔離

- 63 關於兒童感染單純性疱疹（Herpes Simplex），下列敘述何者錯誤？
(A)於嘴唇或嘴部周圍呈現聚集成叢的水泡
(B)由第 1 型疱疹病毒反覆侵犯引起而出現潛伏感染
(C)病毒最多見潛伏於運動神經，如三叉神經或第七對顏面神經
(D)可局部塗抹或口服 acyclovir 以減輕口腔潰瘍疼痛及加速癒合
- 64 金小妹，3 歲，因肺炎入院，醫囑執行小型噴霧治療（micro-nebulizer therapy），有關此治療之目的，下列何者錯誤？
(A)稀釋痰液 (B)擴張支氣管 (C)增加肺泡表面張力 (D)濕潤呼吸道黏膜
- 65 小英，5 歲大，診斷疑似細菌性支氣管炎住院求治，有關血液氣體分析之敘述，下列何者錯誤？
(A)血液氣體分析是重要的肺功能指標，可了解肺部的氣體交換情形
(B)採集完成的動脈血液，需與空針內的肝素（heparin）混合
(C)抽血的空針須置於裝有碎冰的容器，以減少血液中物質代謝反應
(D)pH = 7.30, PaO₂ = 85 mmHg, PaCO₂ = 50 mmHg, 判斷為正常範圍
- 66 王小弟，4 歲，因氣喘反覆發作，醫囑需長期使用 Flixotide[®]（fluticasone propionate）（MDI 型）治療，王小弟的媽媽對於此治療不清楚，下列護理指導內容，何者適當？
(A)解釋此藥物為不是類固醇藥物，不會影響孩子生長發育
(B)說明此藥物使用目的是擴張支氣管，避免呼吸道的阻塞
(C)衛教合併使用面罩型吸藥輔助艙（aerochamber）吸入器裝置之技巧
(D)說明階梯治療概念，當氣喘症狀減輕即可減藥，避免造成藥物依賴性
- 67 王小妹，2 歲，接受左心導管檢查返室後，護理師給予下列那項照護措施較不適當？
(A)觀察導管插入肢體之末端脈搏強度
(B)告知家屬王小妹需等排氣後才能進食
(C)檢查後，患肢須保持平直不可彎曲
(D)檢查後第 1 小時，需每 15 分鐘量一次血壓
- 68 許小弟，11 個月，因持續發燒而入院，醫師診斷為川崎氏病，醫囑開立靜脈注射免疫球蛋白（intravenous immunoglobulin；IVIG），下列護理措施，何者錯誤？
(A)注射前，向家屬解釋免疫球蛋白可降低冠狀動脈病變發生機率
(B)靜脈注射 IVIG 時，需密切觀察生命徵象變化，及早發現過敏現象
(C)IVIG 注射後，需教導家屬許小弟若須接種減毒活性疫苗，須間隔半年以上
(D)出院衛教家屬，需繼續服用 Aspirin，如果症狀消失就不需再追蹤
- 69 王妹妹，2 歲，出生即發現有心室中膈缺損，此次入院做心導管檢查，下列何者不是護理師可以從檢查結果的報告中收集到的資料？
(A)心臟腔室的壓力 (B)心臟腔室的含氧飽和度
(C)心臟的血流變化 (D)心臟的電衝動傳導
- 70 小文，3 個月大，患有三尖瓣閉鎖（Tricuspid Atresia），護理師依醫囑給予前列腺素 E₁（prostaglandin E₁），其主要的目的為何？
(A)促使動脈導管開放，增加下肢靜脈血液回流
(B)促使動脈導管開放，增加肺部血流
(C)促使動脈導管關閉，改善肺動脈高壓
(D)促使動脈導管關閉，增加主動脈血流
- 71 環環，7 歲，正接受輸血治療中，輸血 10 分鐘後，環環開始出現寒顫、發燒、胸悶、頭痛等症狀。有關緊急處理，下列何者正確？
(A)立即停止輸血，且通知醫師
(B)立即停止輸血，且給予 acetaminophen
(C)減緩輸血速率，且等待症狀消失
(D)減緩輸血速率，且收集環環的血液和尿液檢體

- 72 李小妹，1 個月大，罹患先天性甲狀腺功能低下（congenital hypothyroidism），下列敘述何者正確？
(A) 出生體重比正常足月兒低
(B) 不容易餵食，體重增加緩慢
(C) 好動、愛哭，媽媽會很不容易安撫及照顧
(D) 出生 6~12 個月開始治療，可避免智能發展遲緩
- 73 小敏，12 歲，診斷為急性淋巴性白血病，接受化學治療後，白血球： $4,800/\text{mm}^3$ 、血紅素： 11.8g/dL 、血小板： $15,000/\text{mm}^3$ ，根據上述檢查值，下列護理措施何者正確？
(A) 為防感染應採取保護隔離
(B) 為防貧血應多攝取含鐵食物
(C) 為防出血應避免碰撞跌倒
(D) 為防便秘應多吃高纖食物
- 74 有關周邊血液幹細胞移植前，捐贈者需先持續施打 3 至 6 天白血球生成激素（G-CSF）的理由，下列敘述何者正確？
(A) 驅動骨髓內的幹細胞移至周邊血液
(B) 增加血中白血球數目，增加免疫力
(C) 減少移植體對抗宿主疾病（GVHD）
(D) 增加幹細胞的濃度及其增生能力
- 75 小明，2 歲，因連續二天來食慾變差、腹脹、腹瀉、腹痛及排便有血絲等狀況而至急診求治，有關小明糞便培養（stool culture）檢查的目的，下列何者正確？
(A) 檢驗是否有寄生蟲感染
(B) 確認腸道感染致病菌原
(C) 檢驗是否有病毒感染
(D) 評估碳水化合物吸收情形
- 76 有關膽道閉鎖（Biliary atresia）嬰兒父母的護理指導，下列敘述何者錯誤？
(A) 指導父母密切注意病童皮膚、尿液是否呈茶黃色
(B) 衛教父母選擇葛西手術（Kasai procedure）最適當的時機在出生 60 天內進行
(C) 指導父母需定期追蹤病童肝功能的變化
(D) 衛教父母，病童需要長期攝取長鏈脂肪酸之配方奶或低蛋白牛奶
- 77 有關兒童巨結腸症（Megacolon）的敘述，下列何者正確？
(A) 引起原因為某一段腸壁缺乏副交感神經節
(B) 常發生於降結腸後段
(C) 解出果醬般的大便
(D) 須做永久性結腸造瘻口
- 78 小庭，10 歲，與同學在公園騎腳踏車比賽，忘了戴安全帽，不小心頭部側面撞到一棵大樹後跌倒，意識清醒，顛骨骨折，耳下腺撕裂傷，對聲音反應差，有關小庭的神經功能評估，下列敘述何者正確？
(A) 進行眼前庭反射，測試橋腦中樞功能
(B) 進行眼底鏡檢查，觀察是否有視乳突水腫
(C) 執行熱測試，使用熱水滴入耳朵觀察眼球是否震顫
(D) 測洋娃娃眼反應，迅速轉頭時，觀察是否有落日眼
- 79 有關細菌性腦膜炎與無菌性腦膜炎的脊髓液檢查值之比較，下列敘述何者正確？
(A) 細菌性腦膜炎者的葡萄糖值較無菌性腦膜炎者高
(B) 細菌性腦膜炎者的蛋白質值較無菌性腦膜炎者高
(C) 細菌性腦膜炎者的腦脊髓液外觀比無菌性腦膜炎者清澈
(D) 細菌性腦膜炎者的淋巴球數較無菌性腦膜炎者高
- 80 曉雲，14 歲，因體重快速減輕而入院，醫師診斷為厭食症，護理師為曉雲擬訂護理計畫中，下列何項護理處置須優先處理？
(A) 改善與家人的互動關係
(B) 教導其個人應對能力
(C) 心理諮商以矯正身體心像
(D) 改善嚴重的營養不良